

二年级数学上册期末复习题汇总

姓名_____ 班级_____

第一单元 长度单位

一、填空。

1. 要知道物体的长度，可以用()来量。量比较短的物体，通常用()作单位。量比较长的物体或距离，通常用()作单位。

2. 1米=()厘米，操场跑道长时 200()。一张床大约是 2()，手指的宽大约是()厘米。

3. 量一个物体时，米尺的()刻度要对这物体的左端。你的尺子上，从 0 到 1 是()厘米，从 0 到 8 是()厘米，从 6 到 13 是()厘米。

8 厘米 + 12 厘米 = () 厘米

3 米 + 6 米 = () 米

54 米 + 12 米 = () 米

40 厘米 - 30 厘米 = () 厘米

二、填上“>”“<”或“=”。

35 厘米 ○ 25 厘米

5 米 ○ 500 厘米

45 厘米 ○ 54 厘米

20 厘米 ○ 2 米

5 米 ○ 50 厘米

1 米 8 厘米 ○ 180 厘米

三、在()里填上适当的单位。

1. 一支粉笔的长是 7()。

2. 铅笔盒长是 23()

3. 教室宽 6()

4. 一棵树高 3()

5. 小明的身高 130()

6. 操场长 80()

第二单元 100 以内的加法和减法

一、口算。

42 + 9 =

43 + 3 =

48 + 4 =

25 + 3 =

36

- 14 =

87

- 77 =

33 + 4 =

23 + 9 =

18 + 12 =

9 + 26 =

55

- 44 =

33

- 27 =

二、竖式计算(笔算)

23 + 59 - 35

21 + 28


98 - 13

45 + (37 - 22)

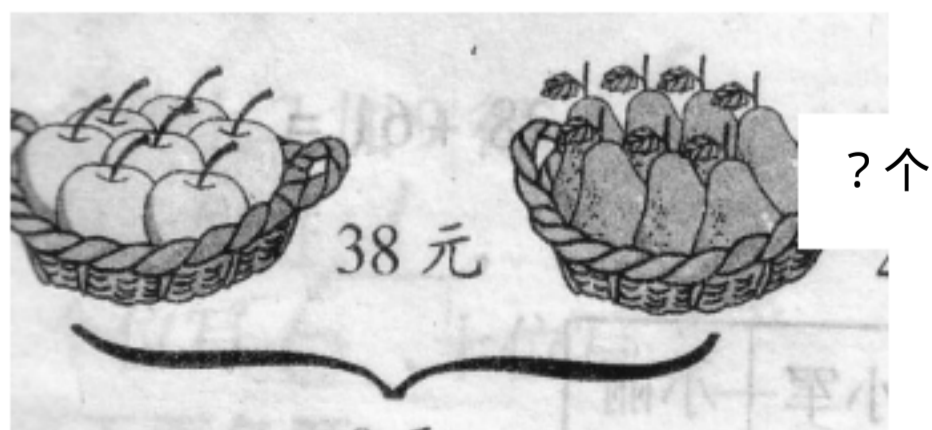
87 - (52 + 27)

62 - 13

三、看图写算式。



?元



73个

第三单元 角的初步认识

一、填一填。

1、一个角有 () 个顶点，() 条边。一块三角板中，有 () 个角，其中有 () 个直角。

2、写出下面角的各部分名称。



二、数一数。

有 () 个角



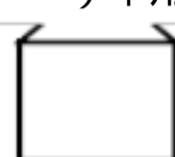
有 () 个角



有 () 个角



有 () 个角



有 () 个直角



有 () 个直角

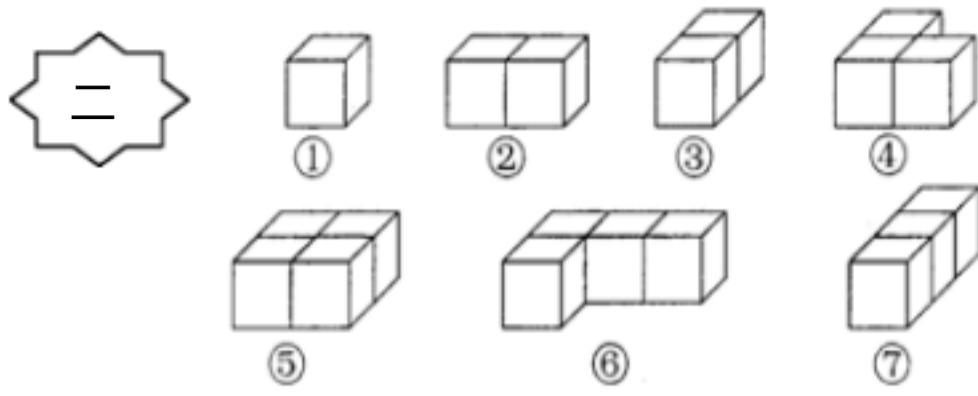


有 () 个直角

第五单元 观察物体

她们分别看到娃娃的哪一面？连一连。(6分)





- (1) 上面的物体,从正面看,_____看到的是□。
- (2) 上面的物体,从正面看,_____看到的是□□。
- (3) 上面的物体,从任何一个面看,_____看到的都是□。

第四、六单元 表内乘法



加法算式: _____ 乘法算式 _____ 或 _____ 口诀: _____

2. 一个乘数是 7, 另一个乘数是 6, 积是 ()。

3. 求几个相同加数的和用 () 法计算比较简便。

4. 8×4 , 表示 () 个 () 相加, 读作 ()。

5. 加法算式: _____ 乘法算式: _____

6. 2 与 6 的积是 () , 2 与 6 的和是 () , 2 个 6 的和是 () , 2 个 6 的积是 () 。


7. 写口诀, 填得数。

$8 \times 2 = ()$	口诀 _____	$6 \times 4 = ()$	口诀 _____
$3 \times 7 = ()$	口诀 _____	$4 \times 7 = ()$	口诀 _____
$4 \times 5 = ()$	口诀 _____	$8 \times 9 = ()$	口诀 _____

8. 计算。 $5 \times 4 - 7 =$ $3 \times 6 + 20 =$ $5 \times 5 - 5 =$ $4 \times 3 - 9 =$

9. 一条 7 元。 ? 元

10. 一笼装 5 只鸡, 3 笼共装了多少只?



***** * 以下均是容易混淆的乘法口诀, 针对自己的情况重点记忆 *****

第一类是 7 和 8 的乘法口诀, 例如六七四十二、六八四十八_____。第二类是积相近的乘法口诀, 例如二九十八、二八_____十六, 七八五十六、六九五十四。第三类是积的十位与个位数字相对调的口诀, 例如四六二十四, 六七四十二, 三_____九二十七, 八九七十二等。从背诵口诀检查中可看出, 我班主要是乘数是 _____ 4、7、8 的口诀背记不熟。

对口令游戏: 如方法一家长说: 三五, 孩子对: 十五。方法二家长说: _____ 27, 孩子对三九二十七; 家长说 _____ 18,

孩子对三六十八、二九十八。乘法口诀表所有口诀都能正确对口令。请家长每天和孩子玩对口令的游戏，即使孩子现在能正确对口令，家长还要坚持每天和孩子玩对口令，这样孩子才能正确的做到脱口而出。按顺序记住或背诵下面的口诀【例如 **10 (二五一十)**，**10** 是得数，二五一十是该得数对应的口诀】。

- 1 (一一得一) 2 (一二得二) 3 (一三得三) 4 (一四得四、二二得四)
 5 (一五得五) 6 (一六得六、二三得六) 7 (一七得七) 8 (一八得八、二四得八)
 9 (一九得九、三三得九) 10 (二五一十) 12 (二六十二、三四十二) 14 (二七十四)
 15 (三五十五) 16 (四四十六、二八十六) 18 (二九十八) 20 (四五二十)
 21 (三七二十一) 24 (三八二十四，四六二十四) 25 (五五二十五) 27 (三九二十七)
 28 (四七二十八) 30 (五六三十) 32 (四八三十二) 35 (五七三十五)
 36 (六六三十六、四九三十六) 40 (五八四十) 42 (六七四十二) 45 (五九四十五)
 48 (六八四十八) 49 (七七四十九) 54 (六九五十四) 56 (七八五十六)
 63 (七九六十三) 64 (八八六十四) 72 (八九七十二) 81 (九九八十一)

第七单元 认识时间

一、按要求画出时针和分针



2 时



5 时 30 分



7 时 10 分



9 时 15 分

二、写出下面的时间



__ 时 __ 分



__ 时 __ 分



再过一刻是



再过 30 分是



过一小时是



前一小时是

三、分针从 12 走到 6，走了 () 分，也就是 ()。

时针从 12 走到 6，走了 () 时。

分针从 3 走到 6，走了 () 分，也就是 ()。

时针从 12 开始绕了一圈又走回 12，走了 () 时。

第八单元 数学广角—搭配 (一)

1. 用 9、0、3 这三个数字能组成 () 个两位数，请写出来： _____
最大的数是 ()，最小的数是 ()，它们相差 ()。
2. 三名同学站成一排合影，每换一个位置就照一张，有 () 站法。
3. 四个小朋友打电话，没两个人通一次电话，一共要通 () 次电话。
4. 有 3 个数 6、8、9，任意选取其中两个数求和，得数有几种可能？请写下来。

【人教版】小学数学二年级上册期末复习卷（一）

姓名 _____ 班级 _____ 总分 _____


一、直接写出得数。



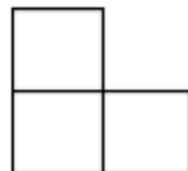
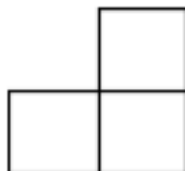
$45+32=$ $6+73=$ $18+6=$ $30+29=$ $36+22+4=$
 $25-4=$ $46-30=$ $49-9=$ $39-39=$ 8 $\times 3+6=$
 $37-0=$ 2 $\times 3=$ 4 $\times 7=$ 5 $\times 3=$ $53-3+9=$
 $8 \times 8=$ $66+35=$ $70-8=$ 9 $\times 3-7=$ $37-32-5=$

二、填空。

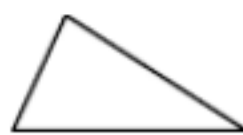
1. 数学课本的宽大约是 _____ 厘米，100 条 1 厘米长的线段一条接一条，接成一条长线段，这条长线段是 _____ 米。
2. 小明有两件颜色不同的上衣和两条颜色不同的裤子，他可以有 _____ 种不同的穿法。
3. 三个小朋友，进行乒乓球比赛，每两人进行一次，一共要进行 _____ 次比赛。
4. 一个角有 () 个顶点，有 () 条边。课桌桌面上有 () 个角，它们都是 () 角，比这种角大的角叫 () 角，比这种角小的角叫 () 角。
5. 把“ $8+8+8+8+8$ ”写成乘法算式是 _____ 或 _____。

三、选择题，选择正确答案的序号填入括号内。

1. 下列图形中，哪个是  的右侧面 ()。

2、下列图形中，有二个直角的是（ ）。



3、下列线中，线段是（ ）。



4、下列口诀中，只能用来计算一个乘法算式的是（ ）。

二三得六

四三十二

八九七十二

七七四十九

5、下列计算正确的是（ ）。

$\begin{array}{r} 65 \\ + 35 \\ \hline 100 \end{array}$	$\begin{array}{r} 21 \\ + 39 \\ \hline 6 \end{array}$	$\begin{array}{r} 21 \\ - 49 \\ \hline 41 \end{array}$	$\begin{array}{r} 80 \\ - 38 \\ \hline 50 \end{array}$	$\begin{array}{r} 78 \\ \hline \end{array}$
---	---	--	--	---

四、在“○”里填上“+”、“-”、“×”、“<”、“>”、“=”。

$73-25$ ○ 45 $54+4$ 60 ○ 4 $4=8$ 5 ○ $\times 7$ ○ 32
 90 ○ $19+71$ 5 $6=30$ ○ 4 $4=16$ $34-20$ 15 ○

五、自评。一至九的乘法口诀，背得流利且对口令又快又好得 **10** 分，背得但对口令不熟得 **7** 分，背得一部分得 **5** 分，背不得得 **3** 分，你认为你自己该得几分。答：我认为我该得 _____ 分。

六、按要求答题。

(1) 画图表示 $2 \times 4 = (\quad)$ 的意义。

(2) 根据算式 $5 \times 3 = (\quad)$ 编一个故事。



七、列式计算。

1、5 个 7 相加，和是多少？

2、8 和 9 相乘，积是多少？

3、一个乘数 6，另一个乘数是 4，积是多少？

4、两个 4 相乘，积是多少？

八、用数学。


1、一套《童话故事》共有 7 本，每本 9 元。小亮买一套，需要多少钱？

2、二年级 2 班上体育课，老师让 23 名同学打篮球，19 名同学做操。
全班共有多少个同学？

打篮球的同学比做操的多几人？

3、看图列式计算。

一共有多少人？



方法一：_____

方法二：_____

一共有几只兔子？



方法一：_____

方法二：_____

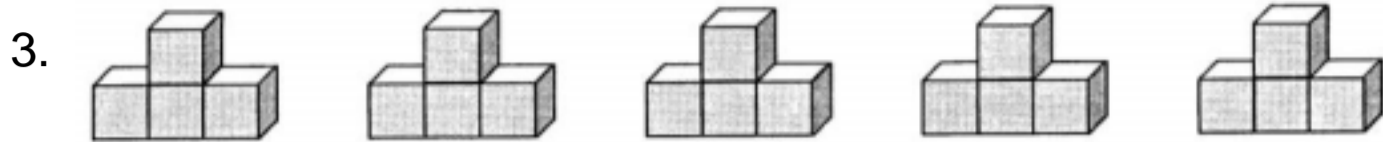
【人教版】小学数学二年级上册期末复习卷（二）


姓名_____ 班级_____ 总分_____

一、知识根据地。

1. 3 米 - 100 厘米 = () 米 6 米 + 49 米 = () 米

2. 你喜欢的乘法口诀是 ()，你能根据这个口诀写出两个不同算式吗？()，()。



(1) 上面一共有 () 个 .

(2) 根据图写成加法算式是 ()，写成乘法算式是 ()。

4. 一个乘数是 8，另一个乘数是 7，列成算式是 ()，读作 ()。

5. 7 只青蛙 7 条腿，() 只眼睛 () 条腿。

6. 在 ○ 里填上 “+、-、×、>、< 或 =”。

4 9 = 36 3 × 4 ○ 4 × 5 16 + 20 35

40 4 = 36 2 × 2 2 + 2 2 × 8 + 8 8 × 3 - 8

7. () 里最大能填几？

() × 8 < 65 () < 5 × 9 30 > 5 × ()

8. 填上合适的单位名称。

一支彩笔长 10 () 妈妈身高 1 () 62 ()

9. 数一数，试一试。(2分)

右图中有 () 条线段，一共有

() 个角，其中有 () 个直角。



10. 小明昨天写了 29 个大字，今天写了 47 个大字，两天写了 () 个大字。


二、是非审判庭。对的在 () 里画 “ ”，错的画 “×”。

1. $8 + 8 + 8 = 3 \times 8 = 8 \times 3$ ()

2. 有三个同学，每两人握一次手，一共要握 6 次手。 ()

3. 钟表上显示 3 时，时针和分针成一直角。 ()

4. 最小的两位数和最大的两位数相差 90。 ()

5. “  ” 这是一条线段。 ()

三、火眼金睛。把正确答案前面的序号填在括号里。

1. 角的大小和两条边的长短 ()。

有关 无关 不能确定

2. 一个三角板上有 () 个直角。

1 2 3

3. 下面哪个时间和 “ 9 点差 10 分 ” 表示的时间一样？

9 时 10 分 8 时 10 分 8 时 50 分

四、数学高速路

1. 口算。

$6 \times 7 =$ $9 \times 9 =$ $3 \times 6 =$ $2 \times 6 =$ $8 \times 3 + 4 =$

$$36+4= 8 \quad \times 7= 2 \quad \times 2= 9+57 = 3 \quad \times 4+ 9=$$
$$5 \times 6= 18+60 = 9 \quad \times 3= 5 \quad \times 5= 38-8+25 =$$
$$41-2 = 6 \quad \times 9= 8 \quad \times 5= 7 \quad \times 2= 7 \quad \times 5 - 3=$$

2. 用竖式计算。

$$67 + 32 = \qquad 96 \qquad - 54 =$$

$$46 + 28 + 23 = \qquad 82 \qquad - 37 - 12 =$$

五、我是小画家。

1. 画出比 6 厘米短 2 厘米的线段。

2. 用给出的一点画直角，并写出角的各部分的名称。

3. 根据时间画上分针。



4 : 00



9 : 30



12 : 00



6 : 30

六、我会观察，我会猜。



八、生活万花筒。认真审题，仔细分析，下面各题你一定不觉得困难。

1. 小明的妈妈有 100 元钱，她在下面的衣服中买了一件上衣和一条裤子，她应该付多少钱？

上衣 58 元	上衣 49 元	裤子 46 元	裤子 27 元	裤子 52 元
------------	------------	------------	------------	------------

2. 周日，小明和 4 个同学去公园玩，公园的儿童票是每张 5 元，他们一共花了多少元？带 30 元去，买票的钱够吗？

3. 小明今年 8 岁，爷爷今年 72 岁，8 年后爸爸比小明的大 27 岁。

爸爸今年多少岁？

爷爷比爸爸大多少岁？

4.



38元



9元



5元



8元



我买 5 个杯子。



我买 1 个茶壶
和 7 把剪刀。



(1) 请你算一下，要付多少元？

(2) 该付多少钱？

(3) 如果付 100 元给营业员，应该找回多少钱？

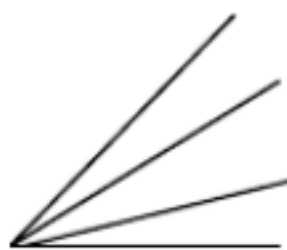
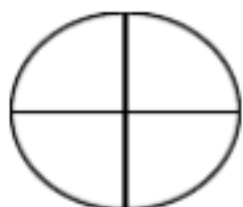
(4) 自己提出一个数学问题并解答。

5. 下面的物体分别从正面、侧面、上面看到的形状分别是什么？请你在画出来。

	正面	侧面	上面

七、动脑筋

1. 数一数，算一算有几个角。



() () ()

2. 一个正方体有()个面，每个面有()个直角，正方体一共有()个直角。

【人教版】小学数学二年级上册期末复习卷(三)

一、填空。

1、()七十四 ()六十三 ()三十六 一九()
四七() 六九() 六八() 二五()

2、100厘米=()米 27米-9米=()米

3、画一条3厘米长的线段，一般应从尺的()刻度开始画起，画到()厘米的地方。

4、右面的图形中有()个角，其中有()个直角。

5、()里最大能填几？

() × 4 < 26 6 × () < 32 68 > 9 × ()

6、在 里填上“>”、“<”或“=”。

8 × 6 48 7 × 7 47 5 × 9 46

7、小芳走一步的距离是 48() 小东的身高是 123()
课室大约长 10()

8、三个好朋友握手，每两人握一次，要握()次手。



□ × □ ○ □ = □

10、把下列各数按从小到大的顺序排列。

5米 50 厘米 5 米 50厘米 5 厘米

() < () < () < ()

二、你认为下面的说法对吗？对的打“ ”，错的打“×”。

1、3 × 3 + 2 = 3 × 4 - 1。 ()

2、长方形和正方形都有 4 个直角。 ()

3、5 米和 50 厘米一样长。 ()

4、用数字 2、4、6 能排成六个不同的两位数。 ()

5、时针走 1 大格是 1 小时，分针走 1 大格是 1 分钟。 ()

三、计算。

1、直接写出得数。

5 × 9 = 9 × 7 = 3 × 4 = 7 × 7 - 7 =

8 × 6 = 5 × 9 = 5 × 8 = 3 × 9 + 9 =

32 - 7 = 30 + 38 = 55 + 9 = 67 - 30 + 22 =

2、笔算下面各题。

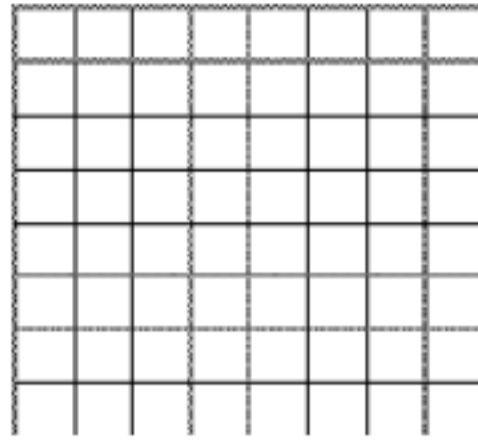
75 - (37 + 28) = 29 + 35 + 9 = 75 - 46 + 31 = 29 + (29 - 17) =

四、请你画一画。


1、画一条 5 厘米长的线段。

3、在方格纸上画一个有直角的三角形。

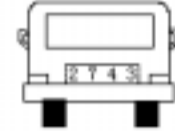
2、画一个钝角。



五、观察物体。



请你连一连，下面分别是谁看到的？




小红

小东

小明

六、小冬的一天是怎样度过的？请你用线连一连。



七、解决问题。

1、李老师要买 6 支 ，售货员说每只  要 4 元，李老师一共要付多少钱？

列式 _____

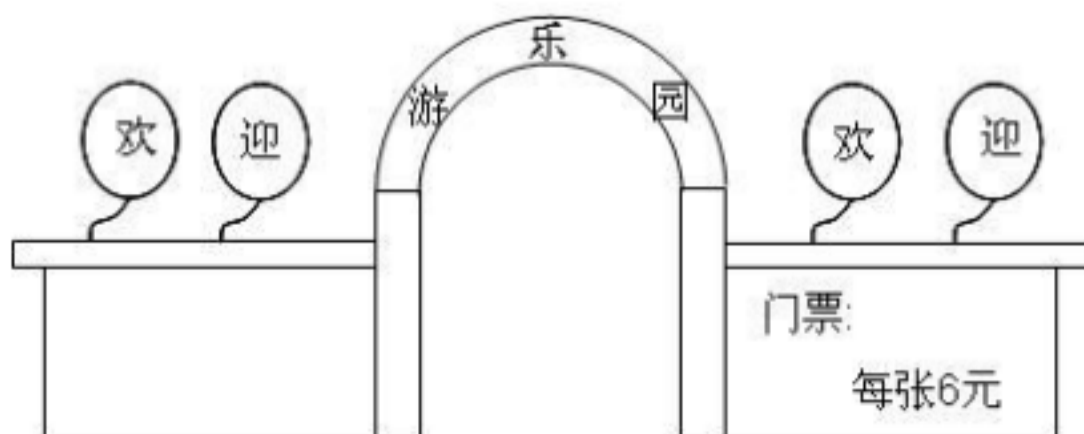


小刚得了多少朵小红花？

$\square \circ \square = \square$ (朵)

3、星期日同学们去游乐园。

买 8 张门票用多少元？



小莉拿 50 元，买 9 张门票够吗？

小红买了 3 张门票，还剩 2 元钱，小红带了多少钱？

请你再提出一个问题并解答。

4、小红周六安排如下：

1:40~2:10	2:10~2:50	2:50~3:30	3:30~5:00	5:00~6:10
看书	做数学作业	做语文作业	锻炼	看电视

(1) 在 2:30 的时候小红正在干什么？

(2) 在 4:00 的时候小红正在干什么？

(3) 在 5:20 的时候小红正在干什么？

(4) 小红做什么花的时间最长？做什么花的时间最短？

【人教版】小学数学二年级上册期末复习卷（四）

班级 _____ 姓名 _____

1、直接写出得数。

(1) $31+47=$

$7 \times 6=$

$9 \times 5=$

$46-18=$

$38+53=$

$68-4=$

$6 \times 6=$

$71-40=$

$81-49=$

$80-5=$

2

$\times 7=$

$40+27=$

(2) $70-5 \times 6=$

$42-2$

$\times 3=$

$74+$

$(26-4) =$

$1 \times 2+3=$

$70-40+20=$

$18-3$

$\times 3=$

2、填空。

(1) 在一个算式里，有加、减法，又有乘法，要先算（ ），后算（ ）。

(2) 差是 59，减数是 38，被减数是（ ）。

- (3) 常用的时间单位有 ()。
- (4) 三角板有三个角，其中一个角是 () 角。
- (5) $7+7+7+7+7+7+2$ 改写成乘法算式是 ()。
- (6) 小玲早上 7:00 到校，11:00 放学，她上午在校 () 小时。

3、判断。对的打 \checkmark ，错的打 \times 。

- (1) 一支粉笔长约 7 米。 ()
- (2) 所有的直角都一样大。 ()
- (3) 时针走 1 小格的时间是 1 分。 ()
- (4) 一个角有一个顶点两条边。 ()

4、用竖式计算。

$$78+29-45= \quad 50-38+26= \quad 29+67-32= \quad 80- \quad (29-15)= \quad 76- \quad (21+41)= \quad 30+ \quad (63-25)$$

=

6、在 \bigcirc 里填上 $>$ 、 $<$ 或 $=$ 。

$34+8 \bigcirc 7+34$	$60 \bigcirc$	分 \bigcirc 1 小时
$26-13 \bigcirc 22-13$	$3 \bigcirc$	米 \bigcirc 300 厘米
$5 \times 6 \bigcirc 4 \times 6$	$5 \bigcirc$	小时 \bigcirc 50 分

7、列式计算。

- (1) 比 51 少 28 的数是多少？
- (2) 一个加数是 15，另一个加数是 18，和是多少？
- (3) 两个乘数都是 9，积是多少？
- (4) 6 个 4 相加，和是多少？(用简便方法计算)

8、应用题。

- (1) 水果店卖桃子，第一天运来 45 箱，第二天比第一天多运 16 箱。两天共运来多少箱？
- (2) 奶奶家今年养了 53 只鸭子，去年比今年少 18 只。去年有多少只？

(3) 共有 74 个大南瓜，刘叔叔运走了 40 个，王爷爷运走了 16 个。还剩多少个？

(4) 有 5 排桌子，每排 6 张，一共有多少张？

有两排桌子，一排 5 张，另一排 6 张，共有多少张？

题和 题一共有多少张桌子？

(5) 一件衬衣用 9 个扣子，一共有 70 个扣子，做 8 件衬衣够吗？

【人教版】小学数学二年级上册期末复习卷（五）

姓名_____

一、直接写出得数。

$70 + 18 =$	16	$- 9 =$	4	$\times 2 =$
$90 - 70 =$	6	$+ 50 =$	6	$\times 8 =$
$30 + 70 =$	22	$- 20 =$	2	$\times 4 =$
$55 - 50 =$	40	$+ 40 =$	7	$\times 9 =$

二、用竖式计算。

$47 + (88 - 69) =$ $60 + 18 - 30 =$ 66 $+ 32 =$ $52 + 38 =$ 25 $+ 44 =$ 60 $- 28 =$

三、选择：在正确答案后面的 里画“ ”。

1. $\times 8 < 55$ ，最大是几？

8 7 6 5

2. $7 \times < 29$ ，最大是几？

2 3 4 5

3. 下面哪个时间最接近 3 时？

2 时 55 分 2 时 3 时 15 分 3 时 30 分

4. 图形  里有几个角？

2 个 3 个 4 个 没有

5. 一张课桌高大约 70 ()。

米 厘米 度 搾

四、填空。

1. 在 里填上“ > ”、“ < ”或“ = ”。

6 × 6 7 × 4 8 × 7 8 + 7 100 厘米 1 米 1 时 100 分

2. 用 7、0、2 组成的两位数有 () 个，它们是 ()。

3. 下面两条线段的长各是多少厘米？在括号里填一填。



4. 按规律继续写下去。

1、4、9、16、() () () () ()

8、16、24、32、() () () ()

5. 先写出每个钟面表示的时刻，再写出时针和分针形成的角是直角、锐角还是钝角。

(5 题图)



□ : □ () 角



□ : □ () 角

6. 现在是几时？过 2 小时后是几时？

(6 题图)



□ → □



□ → □

五、解决实际问题。

1. 每盒装 6 个足球，5 盒有多少个足球？

2. 回乡偶书

少小离家老大回，乡音无改鬓毛衰。

这首古诗一共有多少个字？

儿童相见不相识，笑问客从何处来。

3. 一个茶壶 32 元，一个茶杯 4 元。

买 7 个茶杯和 1 个茶壶一共要用多少钱？

买 2 个茶壶都付 10 元一张的人民币，要付几张？应找回多少钱？