

人教版 2014-2015 年度小学二年级上册数学期末试卷

班级：_____ 姓名：_____ 成绩：_____

一、填空题。(36分)

1、78厘米 + 22厘米 = () 厘米 = () 米 () 小时 = 60分

2、6个3相加，写成乘法算式是 ()，这个式子读作 ()。

3、在下面的 () 里最大能填几？

$$() \times 3 < 27$$



$$() < 5 \times 7$$

4、在算式 $2 \times 8 = 16$ 中，2和8是 ()，积是 ()。

5、在 () 里填上“米”或“厘米”。

小明身高 132 ()

小花身高 1 () 32 ()

6、一个  要9元，买7个  要()元。列式是()，口诀是()。

7、一把三角板上有 () 个直角。长方形有 () 个直角。

8、在 里填上 “<、>、=” 或 “+、-、×”

$9+56 \quad 64$

$36 \quad 73-37$

$9 \times 7 \quad 65$

1

小时 65分钟

$20 \quad 4=16$

4

$9=36$

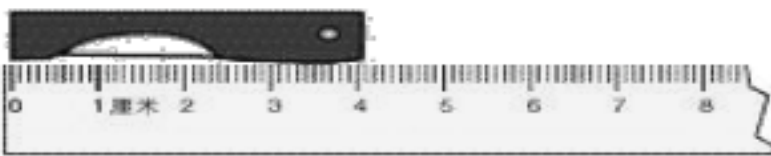
0

$9=9$

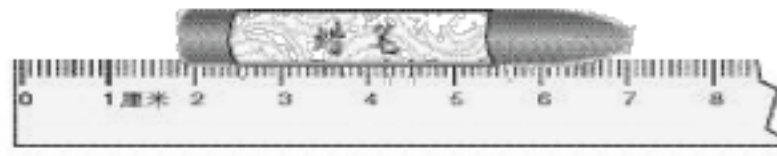
0

$9=0$

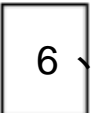


10、



小刀长 () 厘米



蜡笔长 () 厘米

11、用 、、 这三张卡片能组成 () 个两位数。

12、 $7+7+7+7+7=() \times ()$ ；

$4 \times 4 - 4 = () \times ()$ ；

13、把口诀补充完整，并写出乘法算式。

() 二十四

() 二十四

14.  (:) 也可以表示成 ()。过 20 分钟是 ()。

二、选择题(3分)

1、小明有 50 元钱，买故事书花了 28 元，他还剩 () 元。

A 、 22 B 、 30 C 、 20

2、 $5+5+5+4$ ，不可以改写成算式 ()。

A、 5×4 B、 $5 \times 3 + 4$ C、 $4 \times 5 - 1$

3、3个好朋友见面互相握手一次，共要握手（ ）次。

A、3次 B、4次 C、6次

三、判断（4分）

1、9个4相加的和是13。 （ ）

2、小强身高大约是137厘米。 （ ）

3、1米和100厘米一样长。 （ ）

4、三角板上的直角和黑板上的直角是不一样大的。 （ ）

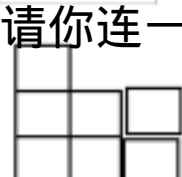
四、我会连（6分）

1、



小芳

下面图形是谁看到的，请你连一连。



小红

小明

小芳

2.小华吃完饭前做作业，后去看电影，他9点50吃饭。

做作业

看电影

吃饭

9:50

10:20

8:30

五、计算（22分）

1、口算（6分）

$64 - 18 =$

$36 + 24 =$

$5 + 35 =$

$0 \times 7 =$

$6 \times 7 =$

3

$\times 9 =$

$6 \times 7 + 24 =$

$8 \times (71 - 66) =$

$30 - (19 + 6) =$

2、用竖式计算。（12分）

$80 - 57 =$

$69 + 16 =$

$73 - 38 =$

$36 + 46 - 58 =$

$80 - 32 - 37 =$

$62 - 34 + 57 =$

3、列式计算（ 6分）

（1）9与3的积再减去 18是多少？

（2）一个因数是 9，另一个因数是 7，积是多少？

（3）比67多29的数是多少？

六、作图题（ 5分）

1、画一条比 12 厘米少 8 厘米的线段。

2、画一个比直角大的角，并标上各部分的名称。

3.画图，表示下列乘法算式的含义。

$$3 \times 5$$



六、解决问题。（ 24分）

1、新华字典一本 37 元，汉语词典一本比它少要 9 元，他们一共要多少元？（ 4分）

2、6 个人植树，小花、小华、小明、小松、小张每人植了 9 棵，小牛植了 10 棵、一共植了多少棵树？（ 4分）

3、有 8 名男学生， 9 名女学生。女学生每名有 5 本书。

（1）一共有多少名学生？（ 3分）

（2）女学生一共有多少本书？（ 3分）

4、公园里面的花有一朵 4 瓣，一朵 7 瓣，一朵 24 瓣的。

（1）买 8 朵 7 瓣的，一共有多少瓣花？（ 3分）

（2）买 4 朵 4 瓣和一朵 24 瓣的，有多少瓣花？（ 4分）

(3) 4朵7瓣的和一朵24瓣的比较,那种多?(4分)

(4) 自己提出一个问题,并解答。(4分)