

一年级下册数学期末解决问题专项检测 (2)

姓名—— 计分——

- 1、  拔了 50 个萝卜，  拔了 20 个萝卜，两只兔子一共拔了多少个萝卜？

$$\square \bigcirc \square = \square \quad (\quad)$$

答：两只兔子一共拔了 () 个萝卜。 新课标第一网

- 2、小图书室有 90 本故事书，借出 40 本，还剩多少本？

$$\square \bigcirc \square = \square \quad (\quad)$$

答：还剩 () 本。

- 3、学校合唱队有 48 人，男同学有 20 人，女同学有多少人？

$$\square \bigcirc \square = \square \quad (\quad)$$

答：女同学有 () 人。

- 4、买玩具。 新课标第一网



42 元





40 元



28 元



30 元

- (1) 小明买一辆  和一架  ，一共多少元？

- (2) 小丽拿 50 元去买一种玩具，找回 20 元，她买了什么玩具？

- (3) 你还可以提出哪些数学问题？ 新课标第一网

5、

树上一共有 93 个松塔。

我们已经采了 70 个松塔。

还剩多少个？



$$\square \bigcirc \square = \square (\quad)$$

6、

我今年 65 岁。

我今年 7 岁。




奶奶比小明大几岁？ 新 | 课 | 标 | 第 | 一 | 网

$$\square \bigcirc \square = \square (\quad)$$

7、

一班和二班一共种了 26 棵树。

我们一班种了 9 棵树。



二班种了几棵？

$$\square \bigcirc \square = \square (\quad)$$